

**Апробация контрольных измерительных материалов
для проведения в 2015 году единого государственного экзамена
по МАТЕМАТИКЕ**

Базовый уровень

Вариант №137741

Инструкция по выполнению работы

Работа включает в себя 20 заданий.

На выполнение работы отводится 3 часа (180 минут).

Ответы к заданиям записываются в виде числа или последовательности цифр. Запишите ответы к заданиям в поле ответа в тексте работы, а затем перенесите в бланк ответов № 1 справа от номера соответствующего задания. Если ответом является последовательность цифр, то запишите эту последовательность в бланк ответов № 1 без пробелов, запятых и других дополнительных символов.

Пример записи ответов.

	В работе	На бланке																																								
Ответ: <u>-0,6</u> .	<table border="1" style="border-collapse: collapse; width: 100%;"><tr><td style="width: 20px; height: 20px;">5</td><td style="width: 20px; height: 20px;">-</td><td style="width: 20px; height: 20px;">0</td><td style="width: 20px; height: 20px;">,</td><td style="width: 20px; height: 20px;">6</td><td style="width: 20px; height: 20px;"></td><td style="width: 20px; height: 20px;"></td><td style="width: 20px; height: 20px;"></td><td style="width: 20px; height: 20px;"></td><td style="width: 20px; height: 20px;"></td><td style="width: 20px; height: 20px;"></td><td style="width: 20px; height: 20px;"></td><td style="width: 20px; height: 20px;"></td><td style="width: 20px; height: 20px;"></td><td style="width: 20px; height: 20px;"></td><td style="width: 20px; height: 20px;"></td><td style="width: 20px; height: 20px;"></td><td style="width: 20px; height: 20px;"></td><td style="width: 20px; height: 20px;"></td><td style="width: 20px; height: 20px;"></td></tr></table>	5	-	0	,	6																<table border="1" style="border-collapse: collapse; width: 100%;"><tr><td style="width: 20px; height: 20px;">5</td><td style="width: 20px; height: 20px;">-</td><td style="width: 20px; height: 20px;">0</td><td style="width: 20px; height: 20px;">,</td><td style="width: 20px; height: 20px;">6</td><td style="width: 20px; height: 20px;"></td><td style="width: 20px; height: 20px;"></td><td style="width: 20px; height: 20px;"></td><td style="width: 20px; height: 20px;"></td><td style="width: 20px; height: 20px;"></td><td style="width: 20px; height: 20px;"></td><td style="width: 20px; height: 20px;"></td><td style="width: 20px; height: 20px;"></td><td style="width: 20px; height: 20px;"></td><td style="width: 20px; height: 20px;"></td><td style="width: 20px; height: 20px;"></td><td style="width: 20px; height: 20px;"></td><td style="width: 20px; height: 20px;"></td><td style="width: 20px; height: 20px;"></td><td style="width: 20px; height: 20px;"></td></tr></table>	5	-	0	,	6															
5	-	0	,	6																																						
5	-	0	,	6																																						
Ответ:	<table border="1" style="border-collapse: collapse; width: 100%;"><tr><td style="width: 20px; height: 20px;">А</td><td style="width: 20px; height: 20px;">Б</td><td style="width: 20px; height: 20px;">В</td><td style="width: 20px; height: 20px;">Г</td></tr><tr><td style="width: 20px; height: 20px;">4</td><td style="width: 20px; height: 20px;">3</td><td style="width: 20px; height: 20px;">1</td><td style="width: 20px; height: 20px;">2</td></tr></table>	А	Б	В	Г	4	3	1	2	<table border="1" style="border-collapse: collapse; width: 100%;"><tr><td style="width: 20px; height: 20px;">9</td><td style="width: 20px; height: 20px;">4</td><td style="width: 20px; height: 20px;">3</td><td style="width: 20px; height: 20px;">1</td><td style="width: 20px; height: 20px;">2</td><td style="width: 20px; height: 20px;"></td><td style="width: 20px; height: 20px;"></td><td style="width: 20px; height: 20px;"></td><td style="width: 20px; height: 20px;"></td><td style="width: 20px; height: 20px;"></td><td style="width: 20px; height: 20px;"></td><td style="width: 20px; height: 20px;"></td><td style="width: 20px; height: 20px;"></td><td style="width: 20px; height: 20px;"></td><td style="width: 20px; height: 20px;"></td><td style="width: 20px; height: 20px;"></td><td style="width: 20px; height: 20px;"></td><td style="width: 20px; height: 20px;"></td><td style="width: 20px; height: 20px;"></td><td style="width: 20px; height: 20px;"></td></tr></table>	9	4	3	1	2																											
А	Б	В	Г																																							
4	3	1	2																																							
9	4	3	1	2																																						

Все бланки ЕГЭ заполняются яркими чёрными чернилами. Допускается использование гелевой, капиллярной или перьевой ручек.

При выполнении заданий можно пользоваться черновиком. Записи в черновике не учитываются при оценивании работы.

Баллы, полученные Вами за выполненные задания, суммируются. Постарайтесь выполнить как можно больше заданий и набрать наибольшее количество баллов.

Обязательно проверьте в конце работы, что все ответы к заданиям части 1 перенесены в бланк ответов!

Желаем успеха!

Ответом к каждому заданию является конечная десятичная дробь, целое число или последовательность цифр. Запишите ответы к заданиям в поле ответа в тексте работы, а затем перенесите в бланк ответов № 1 справа от номера соответствующего задания. Если ответом является последовательность цифр, то запишите эту последовательность в бланк ответов № 1 без пробелов, запятых и других дополнительных символов. Каждую цифру, знак «минус» и запятую пишите в отдельной клеточке в соответствии с приведёнными в бланке образцами. Единицы измерений писать не нужно.

1 Найдите значение выражения $3\frac{3}{4} + \frac{1}{16} \cdot 2,4$.

Ответ: _____.

2 Найдите значение выражения $6 \cdot 10^1 + 5 \cdot 10^2 + 4 \cdot 10^3$.

Ответ: _____.

3 Товар на распродаже уценили на 20%, при этом он стал стоить 940 р. Сколько рублей стоил товар до распродажи?

Ответ: _____.

4 Известно, что $1^2 + 2^2 + 3^2 + \dots + n^2 = \frac{n(n+1)(2n+1)}{6}$. Найдите сумму $1^2 + 2^2 + 3^2 + \dots + 30^2$.

Ответ: _____.

5 Найдите значение выражения $(\sqrt{13} - 1) \cdot (\sqrt{13} + 1)$.

Ответ: _____.

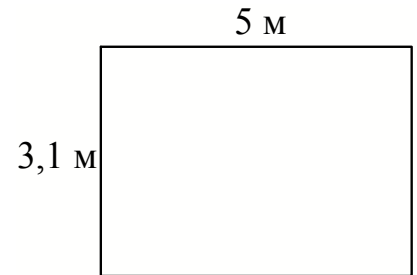
- 6 В летнем лагере 188 детей и 26 воспитателей. В одном автобусе можно перевозить не более 45 пассажиров. Какое наименьшее количество таких автобусов понадобится, чтобы за один раз перевезти всех из лагеря в город?

Ответ: _____.

- 7 Найдите корень уравнения $3^{2x-14} = \frac{1}{9}$.

Ответ: _____.

- 8 На плане указано, что прямоугольная комната имеет площадь 15,3 кв.м. Точные измерения показали, что ширина комнаты равна 3,1 м, а длина 5 м. На сколько квадратных метров площадь комнаты отличается от значения, указанного в плане?



Ответ: _____.

- 9 Установите соответствие между величинами и их возможными значениями: к каждому элементу первого столбца подберите соответствующий элемент из второго столбца.

ВЕЛИЧИНЫ

- А) масса куриного яйца
 Б) масса детской коляски
 В) масса взрослого бегемота
 Г) масса активного вещества в таблетке

ВОЗМОЖНЫЕ ЗНАЧЕНИЯ

- 1) 2,5 мг
 2) 14 кг
 3) 50 г
 4) 3 т

В таблице под каждой буквой, соответствующей величине, укажите номер её возможного значения.

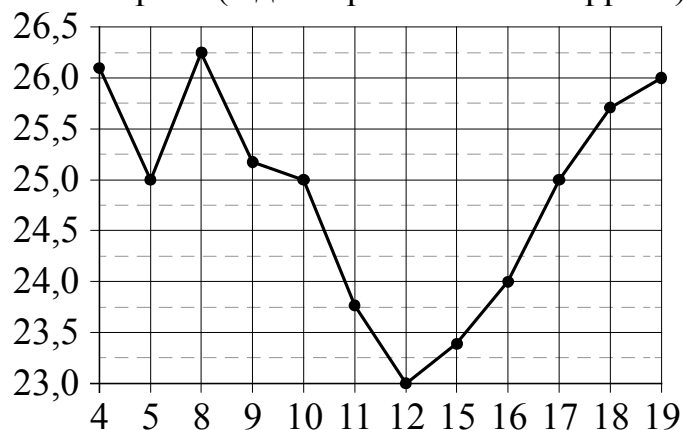
Ответ:

А	Б	В	Г

- 10** В чемпионате по гимнастике участвуют 60 спортсменов: 14 из Венгрии, 25 из Румынии, остальные — из Болгарии. Порядок, в котором выступают гимнастки, определяется жребием. Найдите вероятность того, что спортсменка, выступающая первой, окажется из Болгарии.

Ответ: _____.

- 11** На рисунке жирными точками показана цена нефти на момент закрытия биржевых торгов во все рабочие дни с 4 по 19 апреля 2002 года. По горизонтали указываются числа месяца, по вертикали — цена барреля нефти в долларах США. Для наглядности жирные точки на рисунке соединены линиями. Определите по рисунку наименьшую цену нефти на момент закрытия торгов в период с 4 по 9 апреля (в долларах США за баррель).



Ответ: _____.

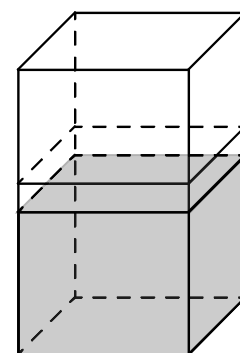
- 12 Для обслуживания международного семинара необходимо собрать группу переводчиков. Сведения о кандидатах представлены в таблице.

Номер переводчика	Языки	Стоимость услуг (руб. в день)
1	немецкий	4000
2	испанский	2050
3	французский	3000
4	французский, английский	5900
5	английский, немецкий	6900
6	французский, испанский	5900

Пользуясь таблицей, соберите хотя бы одну группу, в которой переводчики вместе владеют всеми четырьмя языками: английским, немецким, испанским и французским, а суммарная стоимость их услуг не превышает 12 000 рублей в день. В ответе укажите ровно один набор номеров переводчиков без пробелов, запятых и других дополнительных символов.

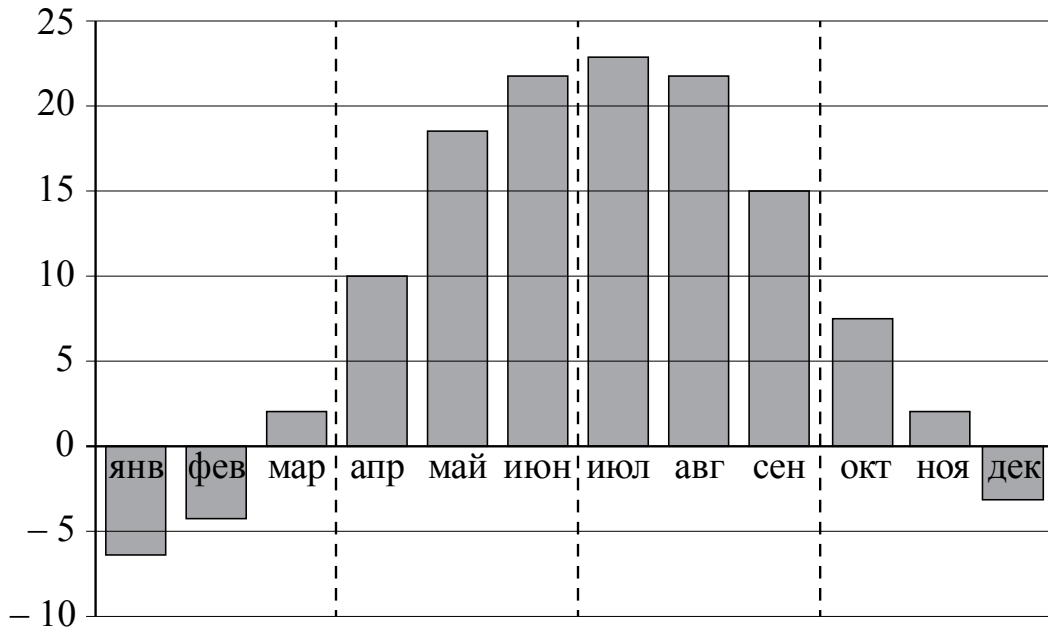
Ответ: _____.

- 13 В бак, имеющий форму правильной четырёхугольной призмы со стороной основания, равной 20 см, налита жидкость. Для того чтобы измерить объём детали сложной формы, её полностью погружают в эту жидкость. Найдите объём детали, если уровень жидкости в баке поднялся на 10 см. Ответ дайте в кубических сантиметрах.



Ответ: _____.

- 14** На диаграмме изображены дневные среднемесячные температуры воздуха в Москве по данным многолетних наблюдений. По горизонтали указываются месяцы, по вертикали — температура в градусах Цельсия.



Пользуясь диаграммой, поставьте в соответствие каждому из указанных периодов времени характеристику температуры.

ПЕРИОДЫ ВРЕМЕНИ

- А) 1-й квартал года
- Б) 2-й квартал года
- В) 3-й квартал года
- Г) 4-й квартал года

ХАРАКТЕРИСТИКИ ТЕМПЕРАТУРЫ

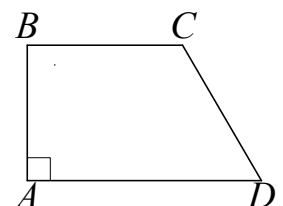
- 1) средняя температура за каждый месяц квартала не ниже 13°C
- 2) средняя температура за последний месяц квартала более чем на 10 градусов превышает среднюю температуру за первый месяц квартала
- 3) средняя температура за последний месяц квартала отрицательная
- 4) ровно два месяца квартала средняя температура отрицательная

В таблице под каждой буквой укажите соответствующий номер.

Ответ:

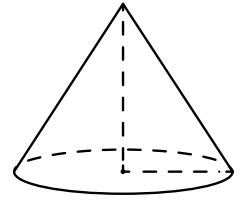
А	Б	В	Г

- 15** В прямоугольной трапеции $ABCD$ с основаниями BC и AD угол BAD прямой, $AB = 4$, $BC = CD = 5$. Найдите среднюю линию трапеции.



Ответ: _____.

- 16 Объём конуса равен 25π , а его высота равна 3. Найдите радиус основания конуса.



Ответ: _____.

- 17 Каждому из четырёх неравенств в левом столбце соответствует одно из решений из правого столбца. Установите соответствие между неравенствами и их решениями.

НЕРАВЕНСТВА	РЕШЕНИЯ
А) $\frac{1}{(x-2)(x-3)} > 0$	1) $x < 2$ или $x > 3$
Б) $3^{-x+3} > 3$	2) $2 < x < 3$
В) $\log_3 x > 1$	3) $x < 2$
Г) $\frac{x-3}{x-2} < 0$	4) $x > 3$

Впишите в приведённую в ответе таблицу под каждой буквой соответствующую цифру.

Ответ:

А	Б	В	Г

- 18 В доме Маши меньше этажей, чем в доме Стаса, в доме Ксюши больше этажей, чем в доме Стаса, а в доме Нади больше этажей, чем в Машинном доме, но меньше, чем в Ксюшином доме. Выберите утверждения, которые следуют из приведённых данных.

- 1) В доме Маши меньше этажей, чем в доме Нади.
- 2) Дом Ксюши самый многоэтажный среди перечисленных четырёх.
- 3) Среди этих четырёх домов точно нет двух с одинаковым количеством этажей.
- 4) В Надином доме больше этажей, чем в доме Стаса.

В ответе запишите номера выбранных утверждений без пробелов, запятых и других дополнительных символов.

Ответ: _____.

19 Приведите пример трёхзначного числа A , обладающего следующими свойствами:

- 1) сумма цифр числа A делится на 5;
- 2) сумма цифр числа $A+3$ также делится на 5.

В ответе укажите ровно одно такое число.

Ответ: _____.

20 В обменном пункте можно совершить одну из двух операций:

- 1) за 3 золотых монеты получить 4 серебряных и одну медную;
- 2) за 7 серебряных монет получить 4 золотых и одну медную.

У Николы были только серебряные монеты. После посещения обменного пункта серебряных монет у него стало меньше, золотых не появилось, зато появилось 42 медных. На сколько уменьшилось количество серебряных монет у Николы?

Ответ: _____.

Не забудьте перенести ответы к заданиям в бланк ответов №1.

Анкета участника апробации

Здравствуйте!

Благодарим Вас за участие в апробации новой формы экзамена – ЕГЭ по математике базового уровня. Просим ответить на вопросы анкеты. Ваши ответы очень важны для нас!

Чтобы ответить на вопрос, обведите в кружок букву выбранного варианта ответа.

Например, **б)**

Во всех вопросах (кроме вопросов № 7 и № 9) нужно выбрать *только один* вариант ответа.

1. Какая у Вас отметка по алгебре, геометрии или математике за прошлый год? (Если отметки разные, укажите ту, которая выше).

- а) «5»
- б) «4»
- в) «3»
- г) Другое

2. Что Вы собираетесь делать после окончания школы?

- а) Продолжить обучение в вузе, при поступлении в который учитывается результат ЕГЭ по математике
- б) Продолжить обучение в вузе, при поступлении в который не учитывается результат ЕГЭ по математике
- в) Продолжить обучение в техникуме или колледже
- г) Устроиться на работу
- д) Другое

3. Сколько времени в среднем в неделю Вы тратите на домашние задания по математике (алгебре и геометрии вместе)?

- а) Меньше 1 часа
- б) От 1 до 3 часов
- в) Больше 3 часов

4. Сколько у Вас уроков математики (алгебры и геометрии вместе) в неделю в школе?

- а) Менее 4
- б) 4
- в) 5
- г) 6
- д) Более 6

5. Посещаете ли Вы дополнительные занятия по математике помимо уроков в школе?

- а) Посещаю
- б) Не посещаю
- в) Не посещаю, но собираюсь

6. Нравится ли Вам заниматься математикой?

- а) Да
- б) Да, время от времени
- в) Не очень
- г) Нет
- д) Не знаю

7. Выполненная работа показалась Вам (можно выбрать несколько ответов)

- а) легкой
- б) сложной
- в) интересной
- г) скучной
- д) необычной
- е) привычной

8. Разбираетесь ли Вы в компьютерах?

- а) Да, хорошо
- б) Да, средне
- в) Нет, не разбираюсь

9. Пользуетесь ли Вы компьютером? (можно выбрать несколько ответов)

- а) Да, для игр и развлечений
- б) Да, для общения с друзьями
- в) Да, для поиска информации
- г) Да, для работы с фото, видео и т.п.
- д) Да, занимаюсь программированием
- е) Нет, почти не пользуюсь

**Апробация контрольных измерительных материалов
для проведения в 2015 году единого государственного экзамена
по МАТЕМАТИКЕ**

Базовый уровень

Вариант №137742

Инструкция по выполнению работы

Работа включает в себя 20 заданий.

На выполнение работы отводится 3 часа (180 минут).

Ответы к заданиям записываются в виде числа или последовательности цифр. Запишите ответы к заданиям в поле ответа в тексте работы, а затем перенесите в бланк ответов № 1 справа от номера соответствующего задания. Если ответом является последовательность цифр, то запишите эту последовательность в бланк ответов № 1 без пробелов, запятых и других дополнительных символов.

Пример записи ответов.

В работе	На бланке																											
Ответ: <u>-0,6</u> .	<table border="1" style="border-collapse: collapse; text-align: center;"><tr><td style="width: 20px;">5</td><td style="width: 20px;">-</td><td style="width: 20px;">0</td><td style="width: 20px;">,</td><td style="width: 20px;">6</td><td style="width: 20px;"> </td><td style="width: 20px;"> </td><td style="width: 20px;"> </td><td style="width: 20px;"> </td><td style="width: 20px;"> </td><td style="width: 20px;"> </td><td style="width: 20px;"> </td><td style="width: 20px;"> </td><td style="width: 20px;"> </td><td style="width: 20px;"> </td><td style="width: 20px;"> </td><td style="width: 20px;"> </td><td style="width: 20px;"> </td><td style="width: 20px;"> </td></tr></table>	5	-	0	,	6																						
5	-	0	,	6																								
Ответ: <table border="1" style="border-collapse: collapse; text-align: center;"><tr><td style="width: 20px;">А</td><td style="width: 20px;">Б</td><td style="width: 20px;">В</td><td style="width: 20px;">Г</td></tr><tr><td style="width: 20px;">4</td><td style="width: 20px;">3</td><td style="width: 20px;">1</td><td style="width: 20px;">2</td></tr></table>	А	Б	В	Г	4	3	1	2	<table border="1" style="border-collapse: collapse; text-align: center;"><tr><td style="width: 20px;">9</td><td style="width: 20px;">4</td><td style="width: 20px;">3</td><td style="width: 20px;">1</td><td style="width: 20px;">2</td><td style="width: 20px;"> </td><td style="width: 20px;"> </td><td style="width: 20px;"> </td><td style="width: 20px;"> </td><td style="width: 20px;"> </td><td style="width: 20px;"> </td><td style="width: 20px;"> </td><td style="width: 20px;"> </td><td style="width: 20px;"> </td><td style="width: 20px;"> </td><td style="width: 20px;"> </td><td style="width: 20px;"> </td><td style="width: 20px;"> </td><td style="width: 20px;"> </td></tr></table>	9	4	3	1	2														
А	Б	В	Г																									
4	3	1	2																									
9	4	3	1	2																								

Все бланки ЕГЭ заполняются яркими чёрными чернилами. Допускается использование гелевой, капиллярной или перьевой ручек.

При выполнении заданий можно пользоваться черновиком. Записи в черновике не учитываются при оценивании работы.

Баллы, полученные Вами за выполненные задания, суммируются. Постарайтесь выполнить как можно больше заданий и набрать наибольшее количество баллов.

Обязательно проверьте в конце работы, что все ответы к заданиям части 1 перенесены в бланк ответов!

Желаем успеха!

Ответом к каждому заданию является конечная десятичная дробь, целое число или последовательность цифр. Запишите ответы к заданиям в поле ответа в тексте работы, а затем перенесите в бланк ответов № 1 справа от номера соответствующего задания. Если ответом является последовательность цифр, то запишите эту последовательность в бланк ответов № 1 без пробелов, запятых и других дополнительных символов. Каждую цифру, знак «минус» и запятую пишите в отдельной клеточке в соответствии с приведёнными в бланке образцами. Единицы измерений писать не нужно.

1 Найдите значение выражения $4,1 \cdot 7,7 + 0,86$.

Ответ: _____.

2 Найдите произведение чисел $6 \cdot 10^{-6}$ и $1,1 \cdot 10^4$.

Ответ: _____.

3 В начале года число абонентов телефонной компании «Восток» составляло 800 тыс. человек, а в конце года их стало 880 тыс. человек. На сколько процентов увеличилось за год число абонентов этой компании?

Ответ: _____.

4 В фирме «Родник» стоимость (в рублях) колодца из железобетонных колец рассчитывается по формуле $C = 6000 + 4100 \cdot n$, где n — число колец, установленных при рытье колодца. Пользуясь этой формулой, рассчитайте стоимость колодца из 7 колец. Ответ укажите в рублях.

Ответ: _____.

5 Найдите значение выражения $(\sqrt{22} - 1) \cdot (\sqrt{22} + 1)$.

Ответ: _____.

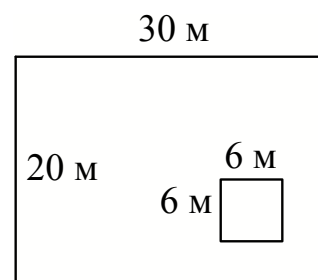
- 6 На день рождения полагается дарить букет из нечётного числа цветов. Тюльпаны стоят 55 рублей за штуку. У Вани есть 400 рублей. Из какого наибольшего числа тюльпанов он может купить букет Маше на день рождения?

Ответ: _____.

- 7 Найдите корень уравнения $8 + 7(x + 2) = 1$.

Ответ: _____.

- 8 Дачный участок имеет форму прямоугольника, стороны которого равны 20 м и 30 м. Дом, расположенный на участке, имеет форму квадрата со стороной 6 м. Найдите площадь оставшейся части участка. Ответ дайте в квадратных метрах.



Ответ: _____.

- 9 Установите соответствие между величинами и их возможными значениями: к каждому элементу первого столбца подберите соответствующий элемент из второго столбца.

ВЕЛИЧИНЫ

- А) площадь футбольного поля
 Б) площадь жилой комнаты
 В) площадь Байкала
 Г) площадь листа писчей бумаги

ВОЗМОЖНЫЕ ЗНАЧЕНИЯ

- 1) 20 кв. м
 2) 31 500 кв. км
 3) 624 кв. см
 4) 7000 кв. м

В таблице под каждой буквой, соответствующей величине, укажите номер её возможного значения.

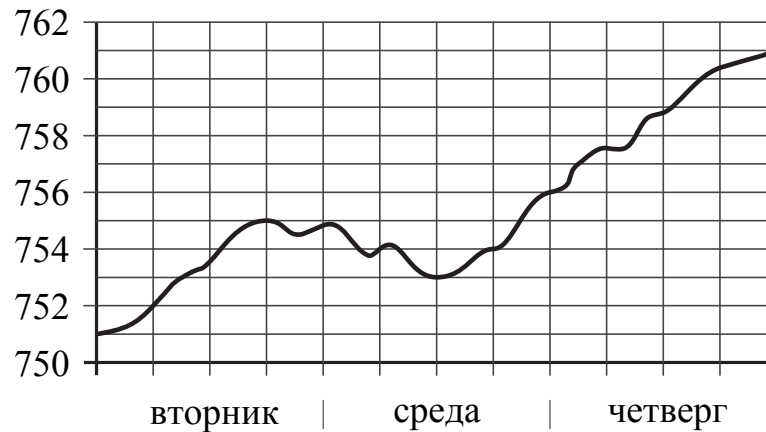
Ответ:

А	Б	В	Г

- 10** Вероятность того, что в случайный момент времени температура тела здорового человека окажется ниже $36,8^{\circ}\text{C}$, равна $0,84$. Найдите вероятность того, что в случайный момент времени у здорового человека температура окажется $36,8^{\circ}\text{C}$ или выше.

Ответ: _____.

- 11** На рисунке изображён график значений атмосферного давления в некотором городе за три дня. По горизонтали указаны дни недели, по вертикали — значения атмосферного давления в миллиметрах ртутного столба. Укажите наименьшее значение атмосферного давления во вторник (в мм рт. ст.).

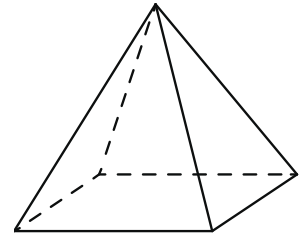


Ответ: _____.

- 12** Для того чтобы связать свитер, хозяйке нужно 900 граммов шерстяной пряжи синего цвета. Можно купить синюю пряжу по цене 70 рублей за 100 граммов, а можно купить неокрашенную пряжу по цене 60 рублей за 100 граммов и окрасить её. Один пакетик краски стоит 50 рублей и рассчитан на окраску 300 граммов пряжи. Какой вариант покупки дешевле? В ответе напишите, сколько рублей будет стоить эта покупка.

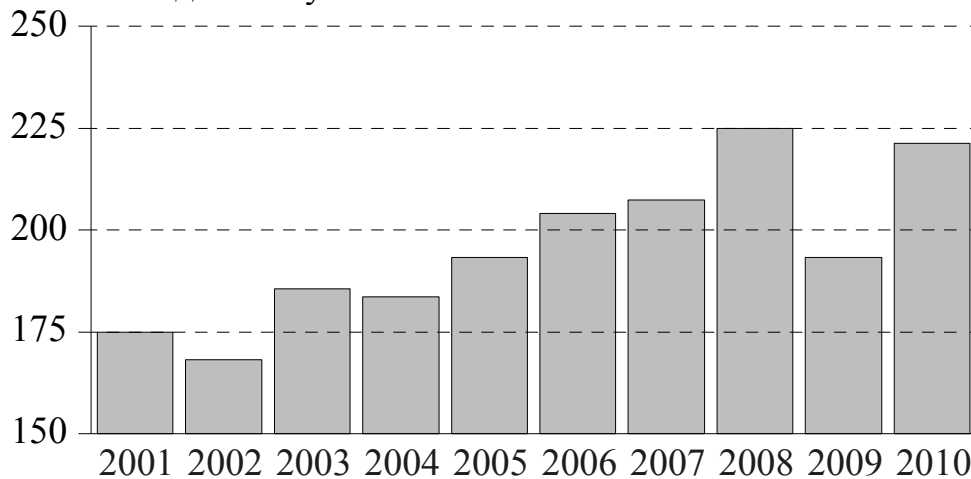
Ответ: _____.

- 13** Пирамида Снофру имеет форму правильной четырёхугольной пирамиды, сторона основания которой равна 220 м, а высота — 104 м. Сторона основания точной музейной копии этой пирамиды равна 11 см. Найдите высоту музейной копии. Ответ дайте в сантиметрах.



Ответ: _____.

- 14** На диаграмме изображён среднегодовой объём добычи угля в России открытым способом в период с 2001 по 2010 годы. По горизонтали указывается год, по вертикали — объём добычи угля в миллионах тонн.



Пользуясь диаграммой, поставьте в соответствие каждому из указанных периодов времени характеристику добычи угля.

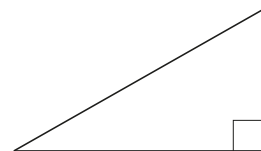
ПЕРИОДЫ ВРЕМЕНИ	ХАРАКТЕРИСТИКИ ДОБЫЧИ УГЛЯ
А) 2001–2003 гг.	1) объём добычи в этот период рос с каждым годом
Б) 2003–2005 гг.	2) период содержит год, в который объём добычи угля был минимальным
В) 2005–2007 гг.	3) в течение периода объёмы добычи сначала росли, а затем стали падать
Г) 2007–2009 гг.	4) годовой объём добычи составлял больше 175, но меньше 200 млн т

В таблице под каждой буквой укажите соответствующий номер.

Ответ:

А	Б	В	Г

- 15** Катеты прямоугольного треугольника равны 6 и 8. Найдите наибольшую среднюю линию треугольника.



Ответ: _____.

- 16** Даны два конуса. Радиус основания и высота первого конуса равны соответственно 3 и 2, а второго — 2 и 3. Во сколько раз объём первого конуса больше объёма второго?

Ответ: _____.

- 17** Каждому из четырёх чисел в левом столбце соответствует отрезок, которому оно принадлежит. Установите соответствие между числами и отрезками из правого столбца.

	ЧИСЛА	ОТРЕЗКИ
А) $\log_4 0,5$		1) $[-1; 0]$
Б) $\frac{50}{11}$		2) $[0; 1]$
В) $0,6^{-2}$		3) $[2; 3]$
Г) $\sqrt{0,68}$		4) $[4; 5]$

Впишите в приведённую в ответе таблицу под каждой буквой соответствующую цифру.

Ответ:

А	Б	В	Г

18 Хозяйка к празднику купила торт, ананас, сок и мясную нарезку. Торт стоил дороже ананаса, но дешевле мясной нарезки, сок стоил дешевле мясной нарезки. Выберите утверждения, которые следуют из приведённых данных.

- 1) Ананас стоил дешевле мясной нарезки.
- 2) За сок заплатили больше, чем за ананас.
- 3) Мясная нарезка — самая дорогая из покупок.
- 4) Среди указанных четырёх покупок точно нет двух, стоимость которых одинакова.

В ответе запишите номера выбранных утверждений без пробелов, запятых и других дополнительных символов.

Ответ: _____.

19 Приведите пример трёхзначного числа A , обладающего следующими свойствами:

- 1) сумма цифр числа A делится на 4;
- 2) сумма цифр числа $A+2$ также делится на 4.

В ответе укажите ровно одно такое число.

Ответ: _____.

20 Во всех подъездах дома одинаковое число этажей, а на каждом этаже одинаковое число квартир. При этом число этажей в доме больше числа квартир на этаже, число квартир на этаже больше числа подъездов, а число подъездов больше одного. Сколько этажей в доме, если всего в нём 455 квартир?

Ответ: _____.

Не забудьте перенести ответы к заданиям в бланк ответов №1.

Анкета участника апробации

Здравствуйте!

Благодарим Вас за участие в апробации новой формы экзамена – ЕГЭ по математике базового уровня. Просим ответить на вопросы анкеты. Ваши ответы очень важны для нас!

Чтобы ответить на вопрос, обведите в кружок букву выбранного варианта ответа.

Например, **б**

Во всех вопросах (кроме вопросов № 7 и № 9) нужно выбрать *только один* вариант ответа.

1. Какая у Вас отметка по алгебре, геометрии или математике за прошлый год? (Если отметки разные, укажите ту, которая выше).

- а) «5»
- б) «4»
- в) «3»
- г) Другое

2. Что Вы собираетесь делать после окончания школы?

- а) Продолжить обучение в вузе, при поступлении в который учитывается результат ЕГЭ по математике
- б) Продолжить обучение в вузе, при поступлении в который не учитывается результат ЕГЭ по математике
- в) Продолжить обучение в техникуме или колледже
- г) Устроиться на работу
- д) Другое

3. Сколько времени в среднем в неделю Вы тратите на домашние задания по математике (алгебре и геометрии вместе)?

- а) Меньше 1 часа
- б) От 1 до 3 часов
- в) Больше 3 часов

4. Сколько у Вас уроков математики (алгебры и геометрии вместе) в неделю в школе?

- а) Менее 4
- б) 4
- в) 5
- г) 6
- д) Более 6

5. Посещаете ли Вы дополнительные занятия по математике помимо уроков в школе?

- а) Посещаю
- б) Не посещаю
- в) Не посещаю, но собираюсь

6. Нравится ли Вам заниматься математикой?

- а) Да
- б) Да, время от времени
- в) Не очень
- г) Нет
- д) Не знаю

7. Выполненная работа показалась Вам (можно выбрать несколько ответов)

- а) легкой
- б) сложной
- в) интересной
- г) скучной
- д) необычной
- е) привычной

8. Разбираетесь ли Вы в компьютерах?

- а) Да, хорошо
- б) Да, средне
- в) Нет, не разбираюсь

9. Пользуетесь ли Вы компьютером? (можно выбрать несколько ответов)

- а) Да, для игр и развлечений
- б) Да, для общения с друзьями
- в) Да, для поиска информации
- г) Да, для работы с фото, видео и т.п.
- д) Да, занимаюсь программированием
- е) Нет, почти не пользуюсь

**Апробация контрольных измерительных материалов
для проведения в 2015 году единого государственного экзамена
по МАТЕМАТИКЕ**

Базовый уровень

Вариант №137743

Инструкция по выполнению работы

Работа включает в себя 20 заданий.

На выполнение работы отводится 3 часа (180 минут).

Ответы к заданиям записываются в виде числа или последовательности цифр. Запишите ответы к заданиям в поле ответа в тексте работы, а затем перенесите в бланк ответов № 1 справа от номера соответствующего задания. Если ответом является последовательность цифр, то запишите эту последовательность в бланк ответов № 1 без пробелов, запятых и других дополнительных символов.

Пример записи ответов.

	В работе	На бланке																													
Ответ: <u>-0,6</u> .	5 - 0 , 6	<table border="1" style="display: inline-table; border-collapse: collapse;"><tr><td style="width: 20px; height: 20px;"></td><td style="width: 20px; height: 20px;"></td><td style="width: 20px; height: 20px;"></td><td style="width: 20px; height: 20px;"></td><td style="width: 20px; height: 20px;"></td><td style="width: 20px; height: 20px;"></td><td style="width: 20px; height: 20px;"></td><td style="width: 20px; height: 20px;"></td><td style="width: 20px; height: 20px;"></td><td style="width: 20px; height: 20px;"></td><td style="width: 20px; height: 20px;"></td><td style="width: 20px; height: 20px;"></td><td style="width: 20px; height: 20px;"></td><td style="width: 20px; height: 20px;"></td><td style="width: 20px; height: 20px;"></td><td style="width: 20px; height: 20px;"></td><td style="width: 20px; height: 20px;"></td><td style="width: 20px; height: 20px;"></td><td style="width: 20px; height: 20px;"></td><td style="width: 20px; height: 20px;"></td></tr></table>																													
Ответ:	<table border="1" style="display: inline-table; border-collapse: collapse;"><tr><td style="width: 20px; height: 20px;">А</td><td style="width: 20px; height: 20px;">Б</td><td style="width: 20px; height: 20px;">В</td><td style="width: 20px; height: 20px;">Г</td></tr><tr><td style="text-align: center;">4</td><td style="text-align: center;">3</td><td style="text-align: center;">1</td><td style="text-align: center;">2</td></tr></table>	А	Б	В	Г	4	3	1	2	9 4 3 1 2	<table border="1" style="display: inline-table; border-collapse: collapse;"><tr><td style="width: 20px; height: 20px;"></td><td style="width: 20px; height: 20px;"></td><td style="width: 20px; height: 20px;"></td><td style="width: 20px; height: 20px;"></td><td style="width: 20px; height: 20px;"></td><td style="width: 20px; height: 20px;"></td><td style="width: 20px; height: 20px;"></td><td style="width: 20px; height: 20px;"></td><td style="width: 20px; height: 20px;"></td><td style="width: 20px; height: 20px;"></td><td style="width: 20px; height: 20px;"></td><td style="width: 20px; height: 20px;"></td><td style="width: 20px; height: 20px;"></td><td style="width: 20px; height: 20px;"></td><td style="width: 20px; height: 20px;"></td><td style="width: 20px; height: 20px;"></td><td style="width: 20px; height: 20px;"></td><td style="width: 20px; height: 20px;"></td><td style="width: 20px; height: 20px;"></td><td style="width: 20px; height: 20px;"></td></tr></table>																				
А	Б	В	Г																												
4	3	1	2																												

Все бланки ЕГЭ заполняются яркими чёрными чернилами. Допускается использование гелевой, капиллярной или перьевой ручек.

При выполнении заданий можно пользоваться черновиком. Записи в черновике не учитываются при оценивании работы.

Баллы, полученные Вами за выполненные задания, суммируются. Постарайтесь выполнить как можно больше заданий и набрать наибольшее количество баллов.

Обязательно проверьте в конце работы, что все ответы к заданиям части 1 перенесены в бланк ответов!

Желаем успеха!

Ответом к каждому заданию является конечная десятичная дробь, целое число или последовательность цифр. Запишите ответы к заданиям в поле ответа в тексте работы, а затем перенесите в бланк ответов № 1 справа от номера соответствующего задания. Если ответом является последовательность цифр, то запишите эту последовательность в бланк ответов № 1 без пробелов, запятых и других дополнительных символов. Каждую цифру, знак «минус» и запятую пишите в отдельной клеточке в соответствии с приведёнными в бланке образцами. Единицы измерений писать не нужно.

1 Найдите значение выражения $\frac{3}{25} : 0,3 - \frac{1}{5}$.

Ответ: _____.

2 Найдите значение выражения $\frac{(4^{-4})^2}{4^{-10}}$.

Ответ: _____.

3 20 выпускников школы собираются учиться в технических вузах. Они составляют 25% от числа всех выпускников. Сколько в школе выпускников?

Ответ: _____.

4 Площадь поверхности прямоугольного параллелепипеда с рёбрами a , b и c можно найти по формуле $S = 2(ab + ac + bc)$. Найдите площадь поверхности прямоугольного параллелепипеда с рёбрами 3, 4 и 5.

Ответ: _____.

5 Найдите значение выражения $(2\sqrt{13} - 1) \cdot (2\sqrt{13} + 1)$.

Ответ: _____.

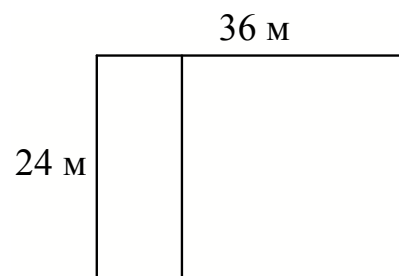
- 6 В пачке 500 листов бумаги формата А4. За неделю в офисе расходуется 800 листов. Какого наименьшего количества пачек бумаги хватит на 7 недель?

Ответ: _____.

- 7 Найдите корень уравнения $\left(\frac{1}{2}\right)^{3-x} = 8$.

Ответ: _____.

- 8 Дачный участок имеет форму прямоугольника со сторонами 24 метра и 36 метров. Хозяин планирует обнести его забором и разделить таким же забором на две части, одна из которых имеет форму квадрата. Найдите общую длину забора в метрах.



Ответ: _____.

- 9 Установите соответствие между величинами и их возможными значениями: к каждому элементу первого столбца подберите соответствующий элемент из второго столбца.

ВЕЛИЧИНЫ

- А) площадь 3-х комнатной квартиры
 Б) площадь футбольного поля
 В) площадь территории России
 Г) площадь купюры 100 рублей

ВОЗМОЖНЫЕ ЗНАЧЕНИЯ

- 1) 0,5 га
 2) 100 кв. м
 3) 97,5 кв. см
 4) 17,1 млн. кв. км

В таблице под каждой буквой, соответствующей величине, укажите номер её возможного значения.

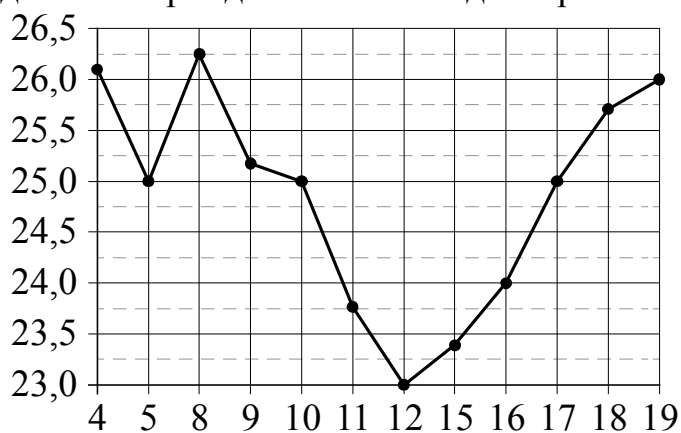
Ответ:

А	Б	В	Г

- 10** Игральную кость с 6 гранями бросают дважды. Найдите вероятность того, что хотя бы раз выпало число, большее 3.

Ответ: _____.

- 11** На рисунке жирными точками показана цена нефти на момент закрытия биржевых торгов во все рабочие дни с 4 по 19 апреля 2002 года. По горизонтали указываются числа месяца, по вертикали — цена барреля нефти в долларах США. Для наглядности жирные точки на рисунке соединены линиями. Определите по рисунку, какого числа цена нефти на момент закрытия торгов впервые за данный период составила 25 долларов за баррель.



Ответ: _____.

- 12** Турист, прибывший в Санкт-Петербург, хочет посетить четыре музея: Эрмитаж, Русский музей, Петропавловскую крепость и Исаакиевский собор. Экскурсионные кассы предлагают маршруты с посещением одного или нескольких объектов. Сведения о стоимости билетов и составе маршрутов представлены в таблице.

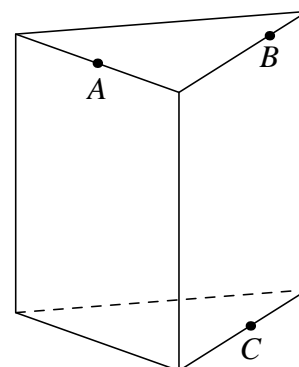
Номер маршрута	Посещаемые объекты	Стоимость (руб.)
1	Эрмитаж	250
2	Исаакиевский собор, Петропавловская крепость	750
3	Эрмитаж, Петропавловская крепость	750
4	Петропавловская крепость	500
5	Русский музей	300
6	Исаакиевский собор, Русский музей	550

Какие маршруты должен выбрать турист, чтобы посетить все четыре музея и затратить на все билеты наименьшую сумму?

В ответе укажите ровно один набор номеров маршрутов без пробелов, запятых и других дополнительных символов.

Ответ: _____.

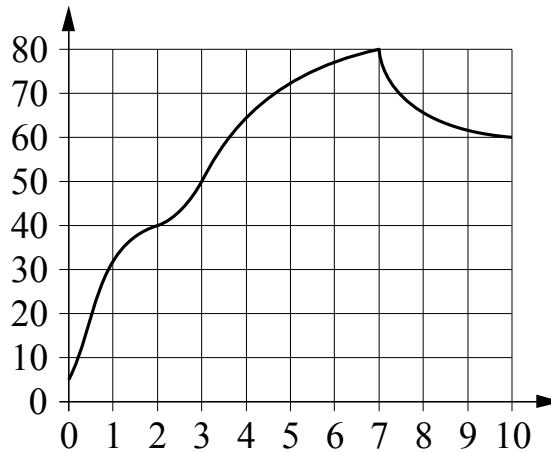
- 13** Плоскость, проходящая через три точки A , B и C , разбивает правильную треугольную призму на два многогранника. Сколько рёбер у многогранника, у которого больше вершин?



Ответ: _____.

14

На графике изображена зависимость температуры от времени в процессе разогрева двигателя легкового автомобиля. На горизонтальной оси отмечено время в минутах, прошедшее с момента запуска двигателя, на вертикальной оси — температура двигателя в градусах Цельсия.



Пользуясь графиком, поставьте в соответствие каждому интервалу времени характеристику температуры.

ИНТЕРВАЛЫ ВРЕМЕНИ

- А) 0–1 мин.
 Б) 2–3 мин.
 В) 4–6 мин.
 Г) 7–9 мин.

ХАРАКТЕРИСТИКИ

- 1) температура росла и на всём интервале была выше 60°C
 2) температура падала
 3) температура росла быстрее всего
 4) температура находилась в пределах от 40°C до 50°C

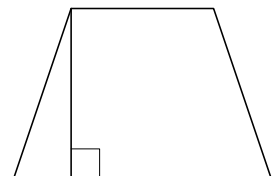
В таблице под каждой буквой укажите соответствующий номер.

Ответ:

А	Б	В	Г

15

В равнобедренной трапеции одно из оснований равно 4, а другое — 8. Высота трапеции равна 5. Найдите тангенс острого угла трапеции.



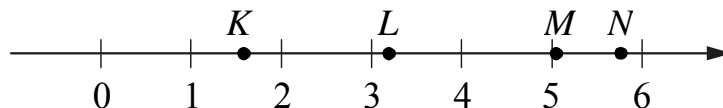
Ответ: _____.

16

Даны два шара с радиусами 7 и 1. Во сколько раз объём первого шара больше объёма второго?

Ответ: _____.

- 17) На координатной прямой отмечены точки K , L , M и N .



Установите соответствие между указанными точками и числами из правого столбца, которые им соответствуют.

ТОЧКИ	ЧИСЛА
А) K	1) $\sqrt{11} + \sqrt{3}$
Б) L	2) $\sqrt{11} \cdot \sqrt{3}$
В) M	3) $\sqrt{11} - \sqrt{3}$
Г) N	4) $(\sqrt{3})^3 - 2$

Впишите в приведённую в ответе таблицу под каждой буквой соответствующую цифру.

Ответ:

А	Б	В	Г

- 18) В офисе фирмы компьютеры работают только от сетевого электропитания. Если компьютеры работают, то электричество в офисе есть. Выберите утверждения, которые непосредственно следуют из этих данных.

- 1) Если в офисе нет электричества, то компьютеры не работают.
- 2) Если в офисе есть электричество, то компьютеры работают.
- 3) Если работает компьютер директора, то электричество в офисе есть.
- 4) Если компьютеры не работают, значит в офисе нет электричества.

В ответе укажите номера выбранных утверждений без пробелов, запятых и других дополнительных символов.

Ответ: _____.

- 19) Приведите пример четырёхзначного числа, кратного 12, произведение цифр которого равно 10. В ответе укажите ровно одно такое число.

Ответ: _____.

20

На глобусе фломастером проведены 17 параллелей (включая экватор) и 24 меридиана. На сколько частей проведённые линии разделяют поверхность глобуса?

Ответ: _____.

Не забудьте перенести ответы к заданиям в бланк ответов №1.

Анкета участника апробации

Здравствуй!

Благодарим Вас за участие в апробации новой формы экзамена – ЕГЭ по математике базового уровня. Просим ответить на вопросы анкеты. Ваши ответы очень важны для нас!

Чтобы ответить на вопрос, обведите в кружок букву выбранного варианта ответа.

Например, **б)**

Во всех вопросах (кроме вопросов № 7 и № 9) нужно выбрать *только один* вариант ответа.

1. Какая у Вас отметка по алгебре, геометрии или математике за прошлый год? (Если отметки разные, укажите ту, которая выше).

- а) «5»
- б) «4»
- в) «3»
- г) Другое

2. Что Вы собираетесь делать после окончания школы?

- а) Продолжить обучение в вузе, при поступлении в который учитывается результат ЕГЭ по математике
- б) Продолжить обучение в вузе, при поступлении в который не учитывается результат ЕГЭ по математике
- в) Продолжить обучение в техникуме или колледже
- г) Устроиться на работу
- д) Другое

3. Сколько времени в среднем в неделю Вы тратите на домашние задания по математике (алгебре и геометрии вместе)?

- а) Меньше 1 часа
- б) От 1 до 3 часов
- в) Больше 3 часов

4. Сколько у Вас уроков математики (алгебры и геометрии вместе) в неделю в школе?

- а) Менее 4
- б) 4
- в) 5
- г) 6
- д) Более 6

5. Посещаете ли Вы дополнительные занятия по математике помимо уроков в школе?

- а) Посещаю
- б) Не посещаю
- в) Не посещаю, но собираюсь

6. Нравится ли Вам заниматься математикой?

- а) Да
- б) Да, время от времени
- в) Не очень
- г) Нет
- д) Не знаю

7. Выполненная работа показалась Вам (можно выбрать несколько ответов)

- а) легкой
- б) сложной
- в) интересной
- г) скучной
- д) необычной
- е) привычной

8. Разбираетесь ли Вы в компьютерах?

- а) Да, хорошо
- б) Да, средне
- в) Нет, не разбираюсь

9. Пользуетесь ли Вы компьютером? (можно выбрать несколько ответов)

- а) Да, для игр и развлечений
- б) Да, для общения с друзьями
- в) Да, для поиска информации
- г) Да, для работы с фото, видео и т.п.
- д) Да, занимаюсь программированием
- е) Нет, почти не пользуюсь

**Апробация контрольных измерительных материалов
для проведения в 2015 году единого государственного экзамена
по МАТЕМАТИКЕ**

Базовый уровень

Вариант №137744

Инструкция по выполнению работы

Работа включает в себя 20 заданий.

На выполнение работы отводится 3 часа (180 минут).

Ответы к заданиям записываются в виде числа или последовательности цифр. Запишите ответы к заданиям в поле ответа в тексте работы, а затем перенесите в бланк ответов № 1 справа от номера соответствующего задания. Если ответом является последовательность цифр, то запишите эту последовательность в бланк ответов № 1 без пробелов, запятых и других дополнительных символов.

Пример записи ответов.

В работе	На бланке																											
Ответ: <u>-0,6</u> .	<table border="1" style="border-collapse: collapse; text-align: center;"><tr><td style="width: 20px;">5</td><td style="width: 20px;">-</td><td style="width: 20px;">0</td><td style="width: 20px;">,</td><td style="width: 20px;">6</td><td style="width: 20px;"> </td><td style="width: 20px;"> </td><td style="width: 20px;"> </td><td style="width: 20px;"> </td><td style="width: 20px;"> </td><td style="width: 20px;"> </td><td style="width: 20px;"> </td><td style="width: 20px;"> </td><td style="width: 20px;"> </td><td style="width: 20px;"> </td><td style="width: 20px;"> </td><td style="width: 20px;"> </td><td style="width: 20px;"> </td><td style="width: 20px;"> </td></tr></table>	5	-	0	,	6																						
5	-	0	,	6																								
Ответ: <table border="1" style="border-collapse: collapse; text-align: center;"><tr><td style="width: 20px;">А</td><td style="width: 20px;">Б</td><td style="width: 20px;">В</td><td style="width: 20px;">Г</td></tr><tr><td style="width: 20px;">4</td><td style="width: 20px;">3</td><td style="width: 20px;">1</td><td style="width: 20px;">2</td></tr></table>	А	Б	В	Г	4	3	1	2	<table border="1" style="border-collapse: collapse; text-align: center;"><tr><td style="width: 20px;">9</td><td style="width: 20px;">4</td><td style="width: 20px;">3</td><td style="width: 20px;">1</td><td style="width: 20px;">2</td><td style="width: 20px;"> </td><td style="width: 20px;"> </td><td style="width: 20px;"> </td><td style="width: 20px;"> </td><td style="width: 20px;"> </td><td style="width: 20px;"> </td><td style="width: 20px;"> </td><td style="width: 20px;"> </td><td style="width: 20px;"> </td><td style="width: 20px;"> </td><td style="width: 20px;"> </td><td style="width: 20px;"> </td><td style="width: 20px;"> </td><td style="width: 20px;"> </td></tr></table>	9	4	3	1	2														
А	Б	В	Г																									
4	3	1	2																									
9	4	3	1	2																								

Все бланки ЕГЭ заполняются яркими чёрными чернилами. Допускается использование гелевой, капиллярной или перьевой ручек.

При выполнении заданий можно пользоваться черновиком. Записи в черновике не учитываются при оценивании работы.

Баллы, полученные Вами за выполненные задания, суммируются. Постарайтесь выполнить как можно больше заданий и набрать наибольшее количество баллов.

Обязательно проверьте в конце работы, что все ответы к заданиям части 1 перенесены в бланк ответов!

Желаем успеха!

Ответом к каждому заданию является конечная десятичная дробь, целое число или последовательность цифр. Запишите ответы к заданиям в поле ответа в тексте работы, а затем перенесите в бланк ответов № 1 справа от номера соответствующего задания. Если ответом является последовательность цифр, то запишите эту последовательность в бланк ответов № 1 без пробелов, запятых и других дополнительных символов. Каждую цифру, знак «минус» и запятую пишите в отдельной клеточке в соответствии с приведёнными в бланке образцами. Единицы измерений писать не нужно.

1 Найдите значение выражения $\frac{31}{15} - 0,3 \cdot \frac{2}{9}$.

Ответ: _____.

2 Найдите значение выражения $\frac{3^{-6} \cdot 3^3}{3^{-5}}$.

Ответ: _____.

3 Налог на доходы составляет 13% от заработной платы. Заработная плата Ивана Кузьмича равна 17 500 рублей. Какую сумму он получит после уплаты налога на доходы? Ответ дайте в рублях.

Ответ: _____.

4 Перевести температуру из шкалы Цельсия в шкалу Фаренгейта позволяет формула $F = 1,8C + 32$, где C — градусы Цельсия, F — градусы Фаренгейта. Какая температура по шкале Цельсия соответствует 199° по шкале Фаренгейта? Ответ округлите до десятых.

Ответ: _____.

5 Найдите значение выражения $\frac{\sqrt{12}}{\sqrt{3}}$.

Ответ: _____.

6 Таксист за месяц проехал 9000 км. Цена бензина 35 рублей за литр. Средний расход бензина на 100 км составляет 10 литров. Сколько рублей потратил таксист на бензин за этот месяц?

Ответ: _____.

7 Найдите корень уравнения $\lg(25x + 60) = 2$.

Ответ: _____.

8 Какой угол (в градусах) образуют минутная и часовая стрелки часов в 16:00?

Ответ: _____.

9 Установите соответствие между величинами и их возможными значениями: к каждому элементу первого столбца подберите соответствующий элемент из второго столбца.

ВЕЛИЧИНЫ

- А) масса человека
- Б) масса шариковой ручки
- В) масса автомобиля
- Г) масса железнодорожного состава

ВОЗМОЖНЫЕ ЗНАЧЕНИЯ

- 1) 460 т
- 2) 80 кг
- 3) 1,3 т
- 4) 10 г

В таблице под каждой буквой, соответствующей величине, укажите номер её возможного значения.

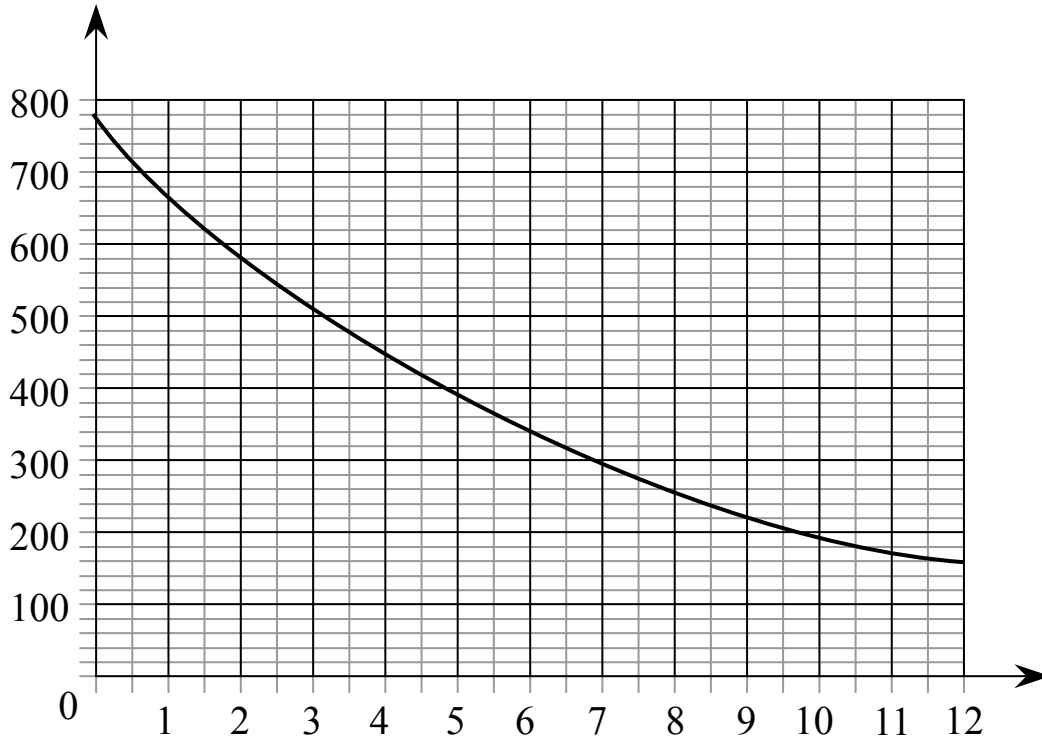
Ответ:

А	Б	В	Г

10 Игральную кость с 6 гранями бросают дважды. Найдите вероятность того, что оба раза выпало число, большее 3.

Ответ: _____.

- 11** На графике изображена зависимость атмосферного давления (в миллиметрах ртутного столба) от высоты над уровнем моря (в километрах). На какой высоте (в км) летит воздушный шар, если барометр, находящийся в корзине шара, показывает давление 540 миллиметров ртутного столба?

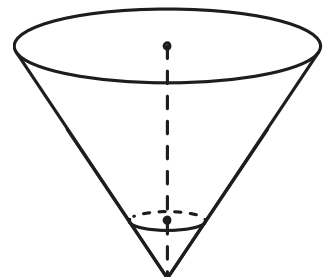


Ответ: _____.

- 12** Для того чтобы связать свитер, хозяйке нужно 400 граммов шерстяной пряжи синего цвета. Можно купить синюю пряжу по цене 60 рублей за 50 граммов, а можно купить неокрашенную пряжу по цене 50 рублей за 50 граммов и окрасить её. Один пакетик краски стоит 10 рублей и рассчитан на окраску 200 граммов пряжи. Какой вариант покупки дешевле? В ответе напишите, сколько рублей будет стоить эта покупка.

Ответ: _____.

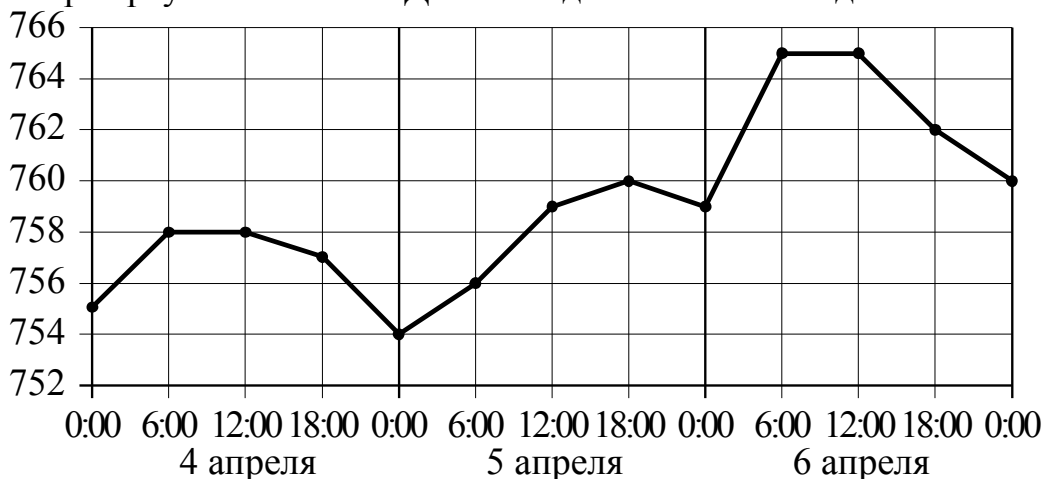
- 13** В сосуде, имеющем форму конуса, уровень жидкости достигает $\frac{1}{3}$ высоты. Объём сосуда 540 мл. Чему равен объём налитой жидкости? Ответ дайте в миллиметрах.



Ответ: _____.

14

На рисунке точками изображено атмосферное давление в городе N на протяжении трёх суток с 4 по 6 апреля 2013 года. в течение суток давление измеряется 4 раза: ночью (00:00), утром (06:00), днём (12:00) и вечером (18:00). По горизонтали указывается время суток и дата, по вертикали — давление в миллиметрах ртутного столба. Для наглядности точки соединены линиями.



Пользуясь рисунком, поставьте в соответствие каждому из указанных периодов времени характеристику давления в городе N в течение этого периода.

ПЕРИОДЫ ВРЕМЕНИ

- А) ночь 4 апреля (с 0 до 6 часов)
 Б) день 5 апреля (с 12 до 18 часов)
 В) ночь 6 апреля (с 0 до 6 часов)
 Г) утро 6 апреля (с 6 до 12 часов)

ХАРАКТЕРИСТИКИ ДАВЛЕНИЯ

- 1) наибольший рост давления
 2) давление достигло 758 мм рт. ст.
 3) давление не менялось
 4) наименьший рост давления

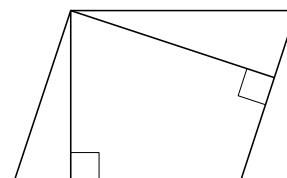
В таблице под каждой буквой укажите соответствующий номер.

Ответ:

А	Б	В	Г

15

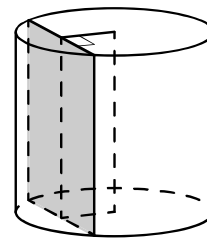
Стороны параллелограмма равны 8 и 16. Высота, опущенная на меньшую сторону, равна 12. Найдите высоту, опущенную на вторую сторону параллелограмма.



Ответ: _____.

16

Радиус основания цилиндра равен 13, а его образующая равна 18. Сечение, параллельное оси цилиндра, удалено от неё на расстояние, равное 12. Найдите площадь этого сечения.



Ответ: _____.

17

Каждому из четырёх неравенств в левом столбце соответствует одно из решений из правого столбца. Установите соответствие между неравенствами и множествами их решений.

НЕРАВЕНСТВА

А) $\log_2 x > 0$

Б) $2^{-x} > 2$

В) $\frac{x}{x-1} < 0$

Г) $\frac{1}{x(x-1)} > 0$

РЕШЕНИЯ

1) $(-\infty; 0) \cup (1; +\infty)$

2) $(1; +\infty)$

3) $(-\infty; -1)$

4) $(0; 1)$

Впишите в приведённую в ответе таблицу под каждой буквой соответствующую цифру.

Ответ:

А	Б	В	Г

18

Согласно градостроительным нормам, в домах выше 5 этажей должен быть установлен лифт. Считая, что эти нормы неукоснительно исполняются, выберите утверждения, которые непосредственно из этого следуют.

- 1) Если в доме есть лифт, то в доме больше 6 этажей.
- 2) Если в доме лифта нет, то в доме меньше 6 этажей.
- 3) Если в доме больше 5 этажей, то в нём есть лифт.
- 4) Если в доме нет лифта, то он не выше 5 этажей.

В ответе укажите номера выбранных утверждений без пробелов, запятых и других дополнительных символов.

Ответ: _____.

19 Приведите пример шестизначного натурального числа, которое записывается только цифрами 1 и 6 и делится на 24. В ответе укажите ровно одно такое число.

Ответ: _____.

20 На палке отмечены поперечные линии красного, жёлтого и зелёного цвета. Если распилить палку по красным линиям, получится 9 кусков, если по жёлтым — 12 кусков, а если по зелёным — 8 кусков. Сколько кусков получится, если распилить палку по линиям всех трёх цветов?

Ответ: _____.

Не забудьте перенести ответы к заданиям в бланк ответов №1.

Анкета участника апробации

Здравствуйте!

Благодарим Вас за участие в апробации новой формы экзамена – ЕГЭ по математике базового уровня. Просим ответить на вопросы анкеты. Ваши ответы очень важны для нас!

Чтобы ответить на вопрос, обведите в кружок букву выбранного варианта ответа.

Например, **б)**

Во всех вопросах (кроме вопросов № 7 и № 9) нужно выбрать *только один* вариант ответа.

1. Какая у Вас отметка по алгебре, геометрии или математике за прошлый год? (Если отметки разные, укажите ту, которая выше).

- а) «5»
- б) «4»
- в) «3»
- г) Другое

2. Что Вы собираетесь делать после окончания школы?

- а) Продолжить обучение в вузе, при поступлении в который учитывается результат ЕГЭ по математике
- б) Продолжить обучение в вузе, при поступлении в который не учитывается результат ЕГЭ по математике
- в) Продолжить обучение в техникуме или колледже
- г) Устроиться на работу
- д) Другое

3. Сколько времени в среднем в неделю Вы тратите на домашние задания по математике (алгебре и геометрии вместе)?

- а) Меньше 1 часа
- б) От 1 до 3 часов
- в) Больше 3 часов

4. Сколько у Вас уроков математики (алгебры и геометрии вместе) в неделю в школе?

- а) Менее 4
- б) 4
- в) 5
- г) 6
- д) Более 6

5. Посещаете ли Вы дополнительные занятия по математике помимо уроков в школе?

- а) Посещаю
- б) Не посещаю
- в) Не посещаю, но собираюсь

6. Нравится ли Вам заниматься математикой?

- а) Да
- б) Да, время от времени
- в) Не очень
- г) Нет
- д) Не знаю

7. Выполненная работа показалась Вам (можно выбрать несколько ответов)

- а) легкой
- б) сложной
- в) интересной
- г) скучной
- д) необычной
- е) привычной

8. Разбираетесь ли Вы в компьютерах?

- а) Да, хорошо
- б) Да, средне
- в) Нет, не разбираюсь

9. Пользуетесь ли Вы компьютером? (можно выбрать несколько ответов)

- а) Да, для игр и развлечений
- б) Да, для общения с друзьями
- в) Да, для поиска информации
- г) Да, для работы с фото, видео и т.п.
- д) Да, занимаюсь программированием
- е) Нет, почти не пользуюсь